



1年さんすうプリント②

()くみ ()ばん なまえ ()


1 とけいを よみましょう。




(10じ)



(12じ)

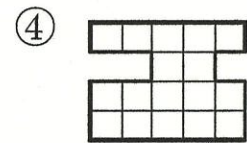

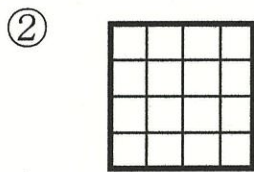
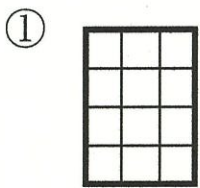


(5じ30分)



(11じ30分)

2 ひろい じゆんに かきましょう。



(④) → (②) → (③) → (①)

3 けいさんを しましょう。

① $70 + 8 = 78$

② $56 + 3 = 59$

③ $82 + 6 = 88$

④ $41 + 5 = 46$

⑤ $20 + 60 = 80$

⑥ $10 + 90 = 100$

⑦ $24 - 4 = 20$

⑧ $91 - 1 = 90$

⑨ $29 - 8 = 21$

⑩ $64 - 1 = 63$

⑪ $57 - 5 = 52$

⑫ $39 - 4 = 35$

4 すいかを たべました。

いのすけさんは 8こ たべました。

ぜんいつさんは いのすけさんより 3こ すくな
かったそうです。

ぜんいつさんは なんこ たべましたか。



す

しき $8 - 3$

こたえ 5こ