



# 1年さんすうプリント②

( )くみ ( )ばん なまえ ( )


1 とけいを よみましょう。




( )



( )

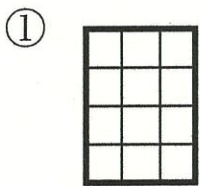


( )

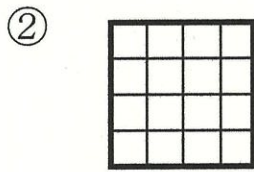


( )

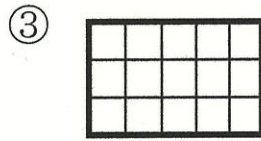
2 ひろい じゅんに かきましょう。



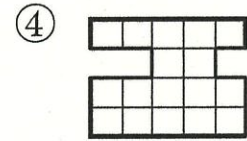
( )



( )



( )



( )

( ) → ( ) → ( ) → ( )

3 けいさんを しましょう。

①  $70 + 8 =$

②  $56 + 3 =$

③  $82 + 6 =$

④  $41 + 5 =$

⑤  $20 + 60 =$

⑥  $10 + 90 =$

⑦  $24 - 4 =$

⑧  $91 - 1 =$

⑨  $29 - 8 =$

⑩  $64 - 1 =$

⑪  $57 - 5 =$

⑫  $39 - 4 =$

4 すいかを たべました。

いのすけさんは 8こ たべました。

ぜんいつさんは いのすけさんより 3こ すくな  
かったそうです。

ぜんいつさんは なんこ たべましたか。



す

しき

こたえ