

休校中の過ごし方について

休校中、健康で元気にすごしていますか？新年度がスタートして約2週間たちますが、新型コロナウイルス感染の拡大をうけて、休校期間が延長します。

今回は、5月6日(水)までの家庭学習を配布します。国語・算数のほかに、生活科や図工、体育にも挑戦させてみてください。(生活科や図工・体育についてはできる範囲でかまいません)また、家庭学習強化月間カードも配布します。生活リズムを家族で確認し、記入して提出して下さい。

今後も、家庭学習は午前中に行わせ、学校の時間と同じように学習に取り組みさせて下さい。

<家庭学習の内容>

- 1 音読(国語や道徳の教科書)
- 2 国語プリント・・・11まい
- 3 算数プリント・・・11まい
- 4 生活科プリント・・・2まい
- 5 がんばりノート・・・1日1ページ
(～家てい学習のすすめ～参考)
- 6 図工(母の日の絵・作文やお手紙)
- 7 なわとびがんばりカードにちょうせん
- 8 e ライブラリのパスワードを同封しています。ご活用ください。



☆おねがいとお知らせ☆

○やり終わったプリント、宿題は点検しましょう。間違いはその場で直しましょう。力がつきます。直す時には、間違いは消さないで、赤鉛筆で直せると次の間違いを防げます。

○音読はお家の方に聞いてもらいましょう。「、」や「。」に気をつけて、すらすら読めれば合格です。

※母の日の絵・作文コンクールの締め切りが5/19(火)に変更になりました。

☆ご確認ください☆ 提出期限が変更になりました。





























- ・保健調査票(ピンクの紙)・緊急連絡カード(水色の紙)
- ・家庭訪問資料
- ・集金

※ 以上の4つは次回の登校日に提出をお願いします。

くみ	名 ま え

① 下の ひょうを 見て、に あてはまる ことばや 数を 答えましょう。

すきな どうぶつ

			
			
			
			
			
			
			
			
犬	うさぎ	ねこ	りす

① 犬と ねこの 数を かぞえましょう。

犬 ひき

ねこ ひき

② 犬と ねこでは、どちらが 何ひき 多いですか。

が ひき 多い。

③ いちばん 多い どうぶつは

で、いちばん 少ない

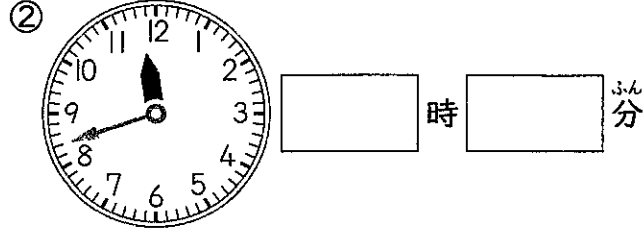
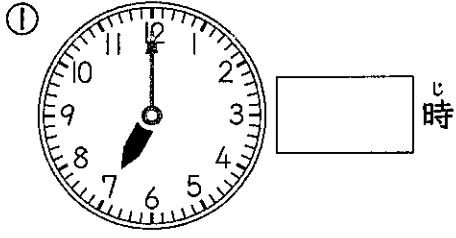
どうぶつは です。

④ 犬と うさぎを あわせると ひきで、ねこと りすを

あわせると ひき です。

くみ	名 ま え

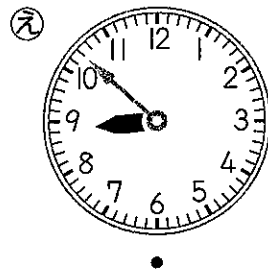


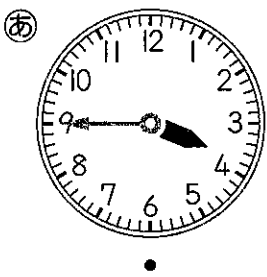
1 とけいを よみましょう。





2 長い はりを かきましょう。





3 せんで おすびましょう。



あ 

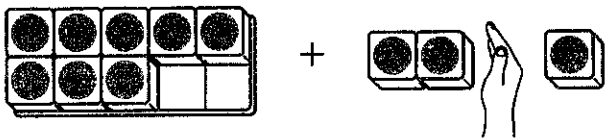
い 

う 

え 

くみ	名 ま え

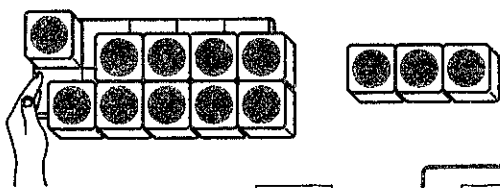
1 □にあてはまる数をかきましょう。



(しき) $8 + 3 = \square$
 \square 1

8に□をたして10
 10と□で□

2 □にあてはまる数をかきましょう。



(しき) $13 - 9 = \square$
 \square 3

□から9をひいて1
 1と□で□

3 計算をしましょう。

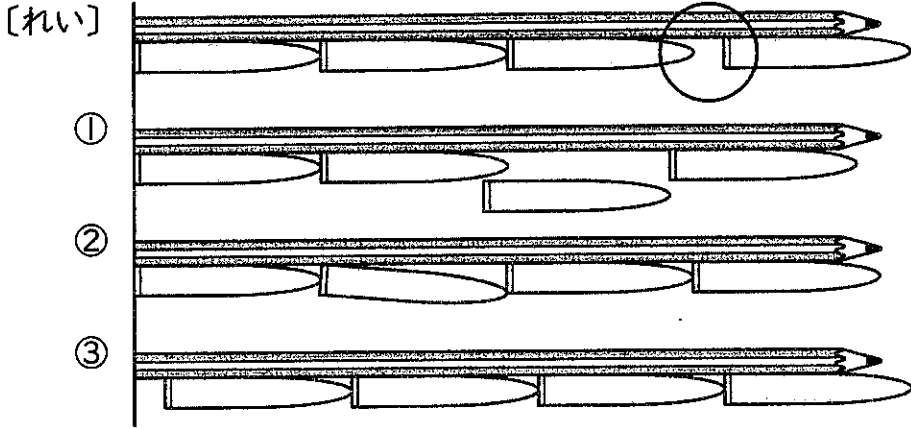
- ① $2 + 7 = \square$ ② $46 + 3 = \square$ ③ $70 + 2 = \square$
- ④ $7 + 4 = \square$ ⑤ $6 + 8 = \square$ ⑥ $40 + 50 = \square$
- ⑦ $9 - 3 = \square$ ⑧ $18 - 5 = \square$ ⑨ $57 - 7 = \square$
- ⑩ $11 - 4 = \square$ ⑪ $15 - 7 = \square$ ⑫ $70 - 60 = \square$

くみ	名 ま え

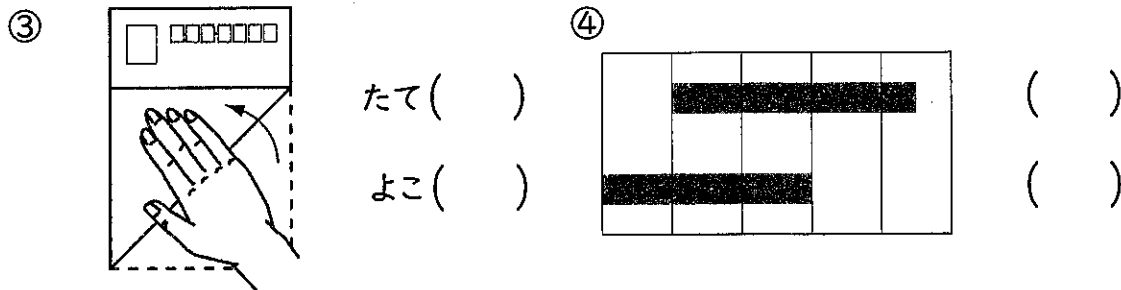
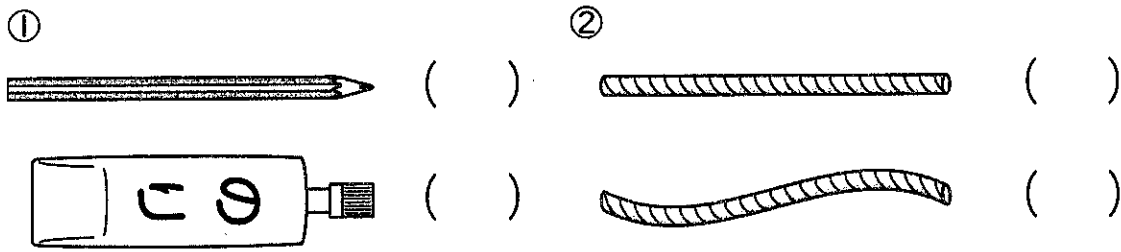
4 長 さ

34ページ

① えんぴつの キャップを つかって、えんぴつの 長さを はかって います。はかり方が まちがって いる ところに、[れい] のように ○を つけましょう。



② 長い ほうに ○を つけましょう。




くみ	名 ま え

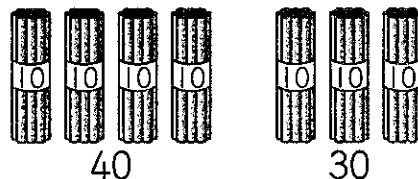
5 たし算と ひき算の ひっ算 (1)


48ページ

1 □に あてはまる 数を かきましょう。

① $40+30$ は、で ^{かんが}えようと

□ + □ = 7だから、70です。



② $60-20$ は、で ^{かんが}えようと

□ - □ = 4だから、40です。

2 □に あてはまる 数を かきましょう。

① 10を 4こ、1を 7こ あわせた 数は □ です。

② 26は、10を □ こと 1を □ こ あわせた 数です。

3 計算を しましょう。

① $6+3=$ □ ② $7+9=$ □ ③ $4+7=$ □

④ $55+5=$ □ ⑤ $28+7=$ □ ⑥ $7-4=$ □

⑦ $10-3=$ □ ⑧ $13-8=$ □ ⑨ $42-7=$ □


⑩ $85-40=$ □

くみ	名 ま え

★ 図を つかっ て 考 え よ う (1)

64 ページ


① 赤い 花が 13本, 白い
花が 8本 さいて います。
あわせて 何本 さいて
いますか。



○ (しき)

答え 本


② はじめに あめを 24こ
もっています。
6こ 食べると 何こに
なりますか。



(しき)

答え こ

③ つぎの 文しょうが
○ $12+7=19$ の しきの いみに
なるように に あてはまる
数を入 入れましょ う。



だい ちさん は 色紙を 12まい もっ て います。


そのあ とに 友だちから まい 色紙を もらった ので

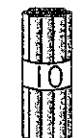

ぜんぶで まい に なり ました。

くみ	名まえ


1 いくつ ですか。

①

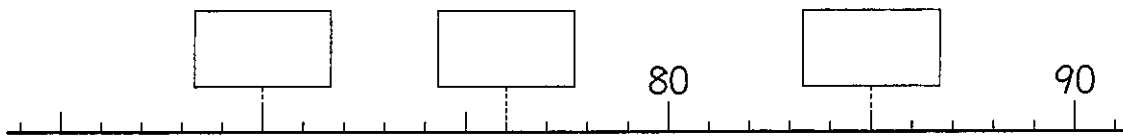


②  が 3つと  が 8つ 本

③  が 7つと  が 3つ まい

④  が 10 さつ

2 に あたる ^{かず} 数を かきましょう。




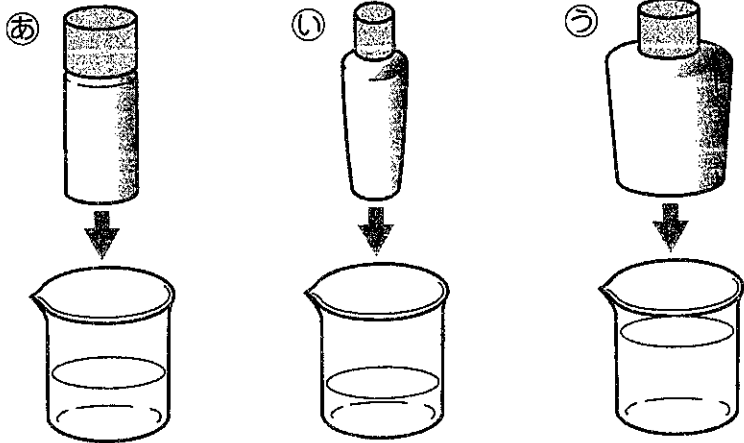
3 数の 大きい ほうに ○を つけましょう。

① 38 40 54 45 100 94


() () () () () ()

くみ	名 ま え

1 水が 多く はいる じゅんに かきましょう。



2 水が いちばん 多く はいる いれものは どれですか。



(答え)	(せつめい)

くみ	名 ま え

8 たし算と ひき算の ひっ算 (2)

1 つぎの 計算を ひっ算で しましょう。

- ① 47+21 ② 29+34 ③ 15+75 ④ 4+66

	4	7
+	2	1

- ⑤ 68-44 ⑥ 83-34 ⑦ 52-47 ⑧ 70-8

2 つぎの 計算の 答えが 正しい ときは ○, まちがって いる

○ ときは 正しい 答えを かきましょう。

①

$$\begin{array}{r} 53 \\ + 28 \\ \hline 71 \end{array}$$

②

$$\begin{array}{r} 39 \\ + 49 \\ \hline 88 \end{array}$$

③

$$\begin{array}{r} 87 \\ - 68 \\ \hline 21 \end{array}$$

④

$$\begin{array}{r} 95 \\ - 39 \\ \hline 56 \end{array}$$

くみ	名 ま え

★ 図を つかって 考えよう (2)

114ページ

① 色紙を 5まい もって いました。 7まい もらいました。

また 3まい もらいました。

ぜんぶで 何まいに なりましたか。

(しき)

答え まい

② みかんが 12こ ありました。 きノウ 4こ 食べました。

今日 2こ 食べました。

みかんは 何こ のこって いますか。

(しき)

答え こ

③ 計算を しましょう。

① $2+3+4=$

② $3+4+5=$

③ $10-5-3=$

④ $13-6-4=$

⑤ $8+1-4=$


⑥ $6+9-5=$

⑦ $7-4+6=$


⑧ $16-9+6=$

くみ	名 ま え


1 3つの さいころの 目の 数を あわせると、いくつに なりますか。



答え



答え



答え

2 計算を しましょう。

① $17+3+4=$

② $8+5+15=$

③ $16+5+4=$

④ $18+6+2=$

かん字の だしがめ 25



ポイント! 上の だんを みたら かん字を 書ける。

べんきよう した日

① えんぴつが ②

③ ④ ⑤

⑥ ⑦ ⑧

⑨ ⑩

⑪ ⑫

① えんぴつが ②

③ ④ ⑤

⑥ ⑦ ⑧

⑨ ⑩

⑪ ⑫

⑬ ⑭ ⑮

⑯ ⑰ ⑱

⑲ ⑳

㉑ ㉒ ㉓

㉔ ㉕

⑬ ⑭ ⑮

⑯ ⑰ ⑱

⑲ ⑳

㉑ ㉒ ㉓

㉔ ㉕

書きおわったら、
上の だんを みて、
正しく 書けたか、 だしがめよう。



20~25

15~19

15より 少ない



ひらがなのカタカタを
習得して、書きのひらがな。

べんまよう
した日

月 日


左のくーのひらがなを、書きのひらがなで、ひらがなを書きなさい。

ひらがなの
カタカタを
習得して、
書きのひらがな。

かひしひまはら を
なすなひ。

Handwriting practice grid with 8 rows and 10 columns. The first row contains the characters 'かひしひまはら' written in a light, dotted font for tracing.

「あ」「い」ど
一字ずつ
うつつて
いながな。
「あひ」の
もつじ、
ひらがなの
カタカタを
書きのひらがな。



手本

Handwriting practice grid with 8 rows and 10 columns. Each row contains a sentence written in cursive hiragana for copying. The sentences are:
1. ありりすすずむし
2. しろくま まつばがに
3. にいにいぜみ みつばち
4. ちよ うみね ここい
5. いのしし しじゆ うから
6. らくだだちよ ううし
7. しまふくろ うちぎ
8. ぎんやんま おのむし

「あ」「い」ど
一字ずつ

大きさは
気をつけて
書きまじなひ。

Handwriting practice boxes for individual characters. Each character is shown in a box with a '手本' (sample) label. The characters are: や, ゆ, よ, つ.

手本を よく見て
ていねいに
書きまじなひ。



ていねいに
書けた？




手本のちから
をきかた



手が、マから
はみ出した
ひらがな



マから はみ出した
手がある



✿ いっも ✿

ありがとう

① 文字のつくりかた

1	に	ね	ん	①	②	③	④	⑤	⑥	⑦	⑧	⑨	⑩	⑪	⑫	⑬	⑭	⑮	⑯	⑰	⑱	⑲
2	①	②	③	④	⑤	⑥	⑦	⑧	⑨	⑩	⑪	⑫	⑬	⑭	⑮	⑯	⑰	⑱	⑲	⑳	㉑	㉒
3																						
4																						
5																						

① ねのつくりかた
 ② んにのつくりかた
 ③ ねのつくりかた
 ④ んにのつくりかた
 ⑤ ねのつくりかた
 ⑥ んにのつくりかた
 ⑦ ねのつくりかた
 ⑧ んにのつくりかた
 ⑨ ねのつくりかた
 ⑩ んにのつくりかた
 ⑪ ねのつくりかた
 ⑫ んにのつくりかた
 ⑬ ねのつくりかた
 ⑭ んにのつくりかた
 ⑮ ねのつくりかた
 ⑯ んにのつくりかた
 ⑰ ねのつくりかた
 ⑱ んにのつくりかた
 ⑲ ねのつくりかた
 ⑳ んにのつくりかた
 ㉑ ねのつくりかた
 ㉒ んにのつくりかた

①
 (ねのつくりかた)

6																						
7																						
8																						
9																						
10																						

① ねのつくりかた
 ② んにのつくりかた
 ③ ねのつくりかた
 ④ んにのつくりかた
 ⑤ ねのつくりかた
 ⑥ んにのつくりかた
 ⑦ ねのつくりかた
 ⑧ んにのつくりかた
 ⑨ ねのつくりかた
 ⑩ んにのつくりかた

① ねのつくりかた
 ② んにのつくりかた
 ③ ねのつくりかた
 ④ んにのつくりかた
 ⑤ ねのつくりかた
 ⑥ んにのつくりかた
 ⑦ ねのつくりかた
 ⑧ んにのつくりかた
 ⑨ ねのつくりかた
 ⑩ んにのつくりかた
 ⑪ ねのつくりかた
 ⑫ んにのつくりかた
 ⑬ ねのつくりかた
 ⑭ んにのつくりかた
 ⑮ ねのつくりかた
 ⑯ んにのつくりかた
 ⑰ ねのつくりかた
 ⑱ んにのつくりかた
 ⑲ ねのつくりかた
 ⑳ んにのつくりかた
 ㉑ ねのつくりかた
 ㉒ んにのつくりかた

